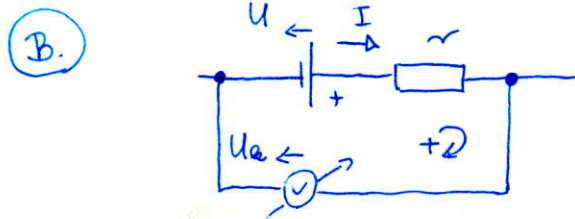


Minta - zli megoldás

- (A.) Hamis. Az "áram" és az "energia áramlása" teljesen más fogalmak. Az energia a telepről a fogyasztóba "áramlik", ahol az munkát végez vagy hőként leadja a környezetnek. A telepen tárolt kémiai energia folyamatosan csökken.



$$0 = -U + I r + U_k$$

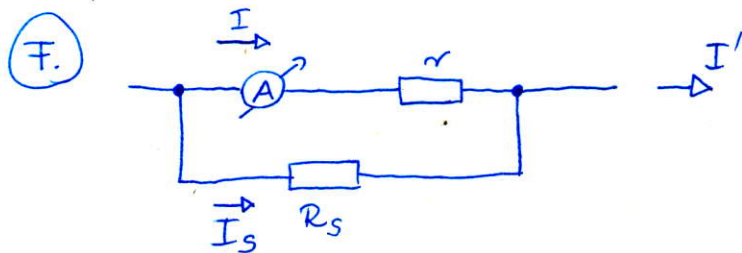
$$U_k = U - I r$$

Igaz.

- (C.) A mért feszültség a fogyasztó tényleges feszültsége, a mért áramerősség viszont több a ténylegesnél, mert bekeményjük a feszültségmérő műszer áramát is.
 $R = \frac{U}{I} \Rightarrow$ A mért ellenállás kisebb a ténylegesnél. \Rightarrow
 \Rightarrow Hamis.

- (D.) Elektrosztatikus térben $W_{A \rightarrow B}$ független az A-t és B-t összekötő pályától. \Rightarrow Hamis.

- (E.) Igaz.



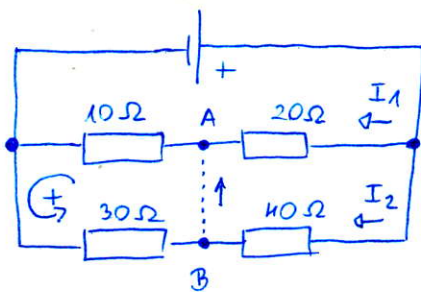
parh. kocs. \Rightarrow U ugyanaz.

$$I_s = \frac{U}{R_s} = \frac{I r}{R_s}$$

$$I' = I + I_s = I \left(1 + \frac{r}{R_s} \right) = 10 \text{ A}$$

Vagyis az új mérőshatár alkalmas a 8,1 A mérésre.
(A műszer 1,62 A-t fog mutatni.) \Rightarrow Igaz.

1.



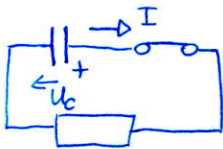
Az ágak áramjai:

$$I_1 = \frac{21 \text{ V}}{30 \Omega} = 0,7 \text{ A}$$

$$I_2 = \frac{21 \text{ V}}{70 \Omega} = 0,3 \text{ A}$$

$$0 = \underbrace{10 \Omega \cdot 0,7 \text{ A}}_{7 \text{ V}} - \underbrace{30 \Omega \cdot 0,3 \text{ A}}_{9 \text{ V}} + U_{AB} \Rightarrow \underline{\underline{U_{AB} = 2 \text{ V}}}$$

2.



$$0 = U_c(t) - I(t) \cdot R$$

$$\dot{Q}(t) = -I(t)$$

(a kifolyó áramot jelöltük pozitívnak)

DIFFERENCIÁLEGYENLET - MEGOLDÁS (MÉG NEM TANULTUK):

$$U_c(t) = -\dot{Q}(t) R$$

$$U_c(t) = -\underbrace{\frac{\dot{Q}(t)}{C}}_{\dot{U}_c(t)} RC$$

$$\dot{U}_c(t) = -\frac{1}{RC} U_c(t)$$

$$U_c(t) = U_0 \cdot e^{-\frac{t}{RC}}$$

$$\frac{U_c(t)}{U_0} = e^{-\frac{t}{RC}}$$

$$0,1 = e^{-\frac{t}{RC}}$$

$$t = (\ln 10) \cdot RC = \underline{\underline{0,915}}$$

3.

$$d_1 := d(Q_1 P) = 2,5 \text{ m}$$

$$d_2 := d(Q_2 P) = 2 \text{ m}$$

$$E = k \frac{Q_1}{d_1^2} - k \frac{|Q_2|}{d_2^2} = \underline{\underline{-1620 \frac{\text{V}}{\text{m}}}}$$

1620 $\frac{\text{V}}{\text{m}}$ nagyságú, és a töltések felé mutat.

4.

Gauss-törvény a függőzsebetek bezáró, A (felületű) alapterületű hasábkra:

$$E_{\ddot{u}} A = \frac{1}{\epsilon_0 \epsilon_{\ddot{u}}} Q$$

$$E_p A = \frac{1}{\epsilon_0 \epsilon_p} Q$$

$$\frac{E_{\ddot{u}}}{E_p} = \frac{\epsilon_p}{\epsilon_{\ddot{u}}} \rightarrow E_{\ddot{u}} = E_p \frac{\epsilon_p}{\epsilon_{\ddot{u}}}$$

$$U = d_{\ddot{u}} E_{\ddot{u}} + d_p E_p$$

$$U = d_{\ddot{u}} \frac{\epsilon_p}{\epsilon_{\ddot{u}}} E_p + d_p E_p$$

$$E_p = \frac{U}{d_{\ddot{u}} \frac{\epsilon_p}{\epsilon_{\ddot{u}}} + d_p} = \underline{\underline{131250 \frac{\text{V}}{\text{m}}}}$$